


CANAL SAINT MARTIN

Plavba po kanáli St. Martin je **výnimočná**. Ak si vyberieš plavbu, ktorá končí alebo začína pri múzeu Orsay, zažiješ nielen Paríž pod povrchom, ale aj pohľad zo Seiny.




Kanál Saint-Martin je **4,55 metrov dlhý**. V minulosti do Paríža privádzal **pitnú vodu** a slúžil aj **na prepravu** potravín a stavebného materiálu.

Má **9 plavebných komôr** a prekonáva výškový rozdiel **26 m**.

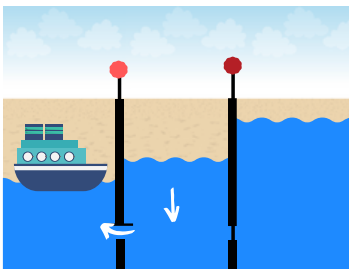
Počas plavby sa prechádza cez **2 otváracie** mosty, niekoľko cestných a 4 mosty pre chodcov. Pod bulvárom **Richard-Lenoir** až pod námestie **de la Bastille** je **2km** časť prekrytá a pláva sa popod Paríž. Jednoducho **skvelý zážitok!**

Keď loď pláva v smere **od Seiny** (napr. od Musée d'Orsay) ku **Parc de la Villete**, hladina vody sa mení ako na obrázkoch nižšie. V opačnom smere zase naopak.




Lod' žiada otvorenie komory.

1. Plavebná komora zatvorená.
2. Plavebná komora otvorená.



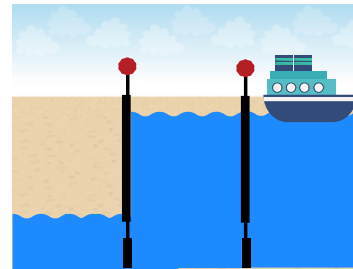
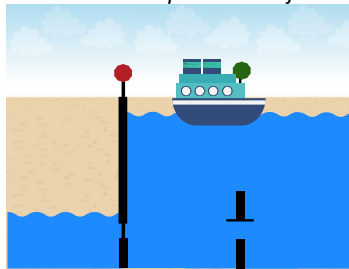
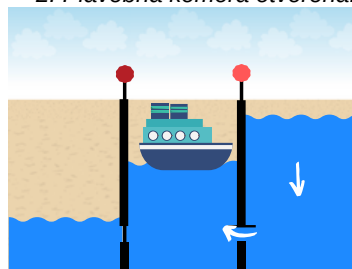
1. komora otvorená a voda sa vlieva otvorom.

Hladina vody rovnaká, loď môže plávať ďalej.



Keď je hladina vody rovnaká, loď sa posunie do 2. komory.

2. Plavebná komora zatvorená.



Úloha: Podľa kódu vylúšti, kto sa rozhodol v roku 1802 postaviť kanál. Bol to



Úlohy: Postupne počas plavby nájdi jednotlivé body na mape a odpovedz na otázky. Ak začínaš pri parku **Villette**, začni číslom **1**, ak zdoľa od múzea **Orsay**, začni číslom **6**.

MÚZEUM VEDY
iCité des sciences
et de l'industrie



Park de la Villette

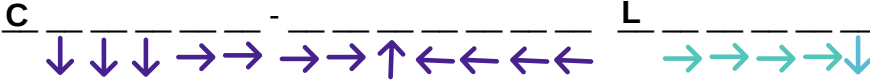
C	L	E	D	O	U
L	X	X	X	X	
A	S	A	L	O	C
U	D	E	-	N	I

1. Rotonde de la Villette



Okolo Paríža postavili veľký múr, a každý, kto chcel priviesť tovar, musel zaplatiť daň v budove.

Úloha: Napíš meno architekta budovy podľa kódu. Začni pri písmene C a potom nasleduj šípky.



**NÁSTUP
VÝSTUP**

2. Point Éphémère & Pompiers Chateau Landon



Starobylá, kedysi opustená budova je dnes sídlom umenia, aj požiarnikov.

Úloha: Z akého materiálu je budova? Je z _____.



1.★

2.★

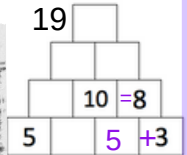
3.★

4.★

4. Hôtel du Nord

Nahrával sa tu slávny francúzsky film.

Úloha: Vypočítaj rok vzniku. Spočítaj dve čísla vedľa seba a výsledok zapíš nad ne. Začni zdoľa.



3. Antoine & Lili

Tri žiarivo farebné butiky francúzskej značky oblečenia a dekorácií do domácností.


Úloha: Napíš farby obchodov.

- 1.
- 2.
- 3.

5. Boulevard Richard-Lenoir

2 km plavba pod povrchom.

Úloha: Chod' si pozrieť kanál z hornej časti lode.



**NÁSTUP
VÝSTUP**

**Jardin
des Tuileries**



**Musée
d'Orsay**



Louvre



Notre Dame

6. Place de la Bastille

Spomienka na francúzsku revolúciu. Na vrchu socha z bronzu vyjadrujúca slobodu.

Úloha: Poriadne sa zahľad' na sochu hore. Sloboda je vyjadrená
A) ženou alebo
B) anjelom s krídlami?
Správne zaškrtni X



6.★

**Place de
la Bastille**

**ČO SI VŠÍMAŤ PRI
PLAVBE NA SEINE,
NÁJDEŠ NA ĎALŠEJ
STRANE.**